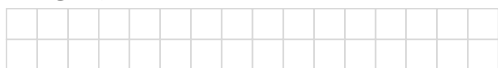
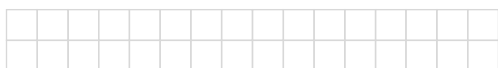


一、畫出指定長的長度。(每題4分，共8分)

1. 7 毫米



2. 3 公分 2 毫米



二、填填看看。(每格4分，共36分)

1. 40 毫米 = () 公分

2. 5 公分 3 毫米 = () 毫米

3. 9 公分 1 毫米 = () 毫米

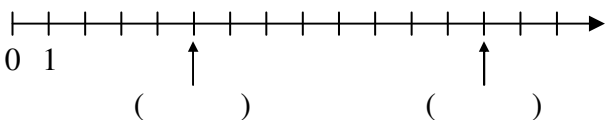
4. 87 毫米 = () 公分 () 毫米

5. 用小數和分數填填看看。

(1) 9 毫米 = () 公分 = () 公分

(2) 7 毫米 = () 公分 = () 公分

三、下面數線箭頭所指的刻度是多多少？填填看看，並回答問題。(每個答案2分，共10分)



1. 數線上刻度 10 在刻度 13 的左邊還是右邊？() 邊

2. 從刻度 3 往右移動 6 格，會到刻度()，再往左移動 3 格，會到刻度()。

四、下面是一公分刻度的尺，寫出算式做做看看。(每題5分，共10分)

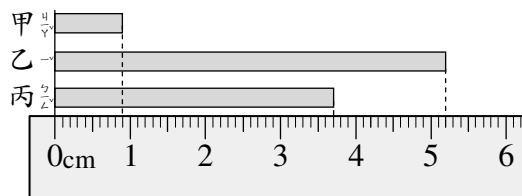
1. 從 2.8 的位置往右移動 4 公分，會到什麼位置？



2. 從 6.3 的位置往左移動 3.6 公分，會到什麼位置？



五、用小數回答。(每格4分，共16分)



1. 上面 3 條緞帶各是多長？

甲：() 公分，乙：() 公分，

丙：() 公分

2. 最長的緞帶和最短的緞帶相差() 公分。

六、把做法和答案記下來。(每題10分，共20分)

1. 把一條長 12 公分 8 毫米的紅繩子和一條長 210 毫米的黃繩子接在一起，兩條繩子共長幾公分幾毫米？

2. 元樂的綠豆苗高 11 公分 9 毫米，佩珍的綠豆苗高 10 公分 5 毫米，元樂的綠豆苗比佩珍的高多少毫米？